

Přemyslovský stát

Doplň věty a portrét panovníka si namaluj.

Svatý _____ se stal patronem českého národa. Za svatého byl prohlášen, protože _____. Jeho pozůstatky jsou uloženy _____. Podle pověsti čeká se svým vojskem v hoře _____.

Pomocí barevných pastelek spoj knížecí dvojice.

Přemysl

Ludmila

Břetislav

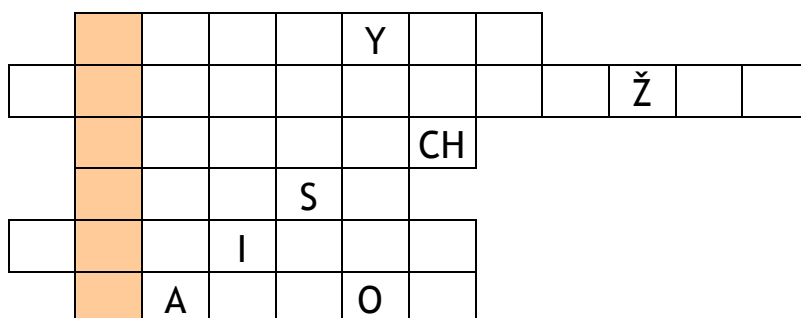
Božena

Oldřich

Jitka

Bořivoj

Libuše



1. bájný zakladatel českého knížecího rodu
2. zločin knížete Boleslava
3. jméno knížete, který se oženil s pradlenou
4. přijetí křesťanství
5. první historicky doložený český kníže
6. ochránce české země

V tajence je jméno poustevníka, zakladatele střediska staroslověnské kultury, Sázavského kláštera. Je jím svatý _____.

Vypiš si znaky románských staveb. Zjednodušeně si zakresli rotundu a baziliku.

Sestav si rodokmen českých knížat, které jsme poznali.

Pracuj s mapou a plánem Prahy. Odpověz na otázky.

Kde je v Praze socha svatého Václava na koni?

Kde leží Stará Boleslav, kde byl Václav zavražděn?

Kde leží Libice nad Cidlinou, bývalé sídlo Slavníkovců?

Jaké oblečení nosili prostí lidé? Namaluj si muže a ženu v tehdejším prostém oděvu.

Sestav si tehdejší jídelníček na jeden den.

snídaně _____

oběd _____

večeře _____

Kdo byl Kosmas a co důležitého napsal? Vytvoř si stranu z knihy tak, jak ji kdysi zapisoval mnich v klášteře: zvol si iniciálu a barevně ji vyzdob, okraje vyzdob pomocí ornamentů, geometrických tvarů...

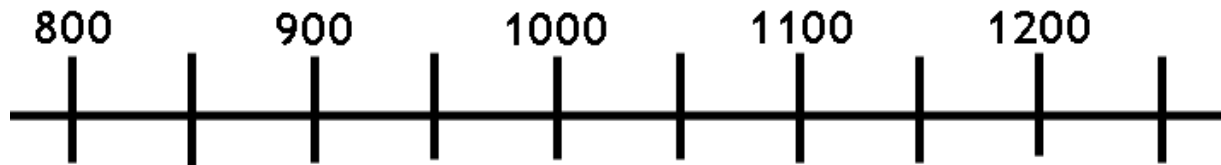
Na časové ose si vyznač:

období považované za vznik českého státu (modře)


smrt svatého Václava (zeleně)

vyvraždění Slavníkovců (hnědě)

období vzniku Kroniky české (červeně)



Nejstarším znakem naší vlasti byla přemyslovská orlice. Vedle je erb českých králů. Oba znaky si vybarvi a vedle nakresli znak naší obce.



Seřaď jména králů za sebou v pořadí, v jakém vládli.

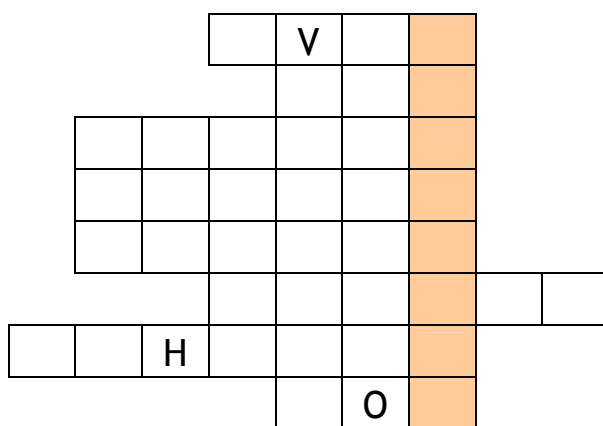
Václav I., Václav II., Václav III., Přemysl Otakar I., Přemysl Otakar II., Vladislav II., Vratislav II.

Za vlády přemyslovských králů vznikaly mnohé hrady. Jména některých si vypiš:

Barevnými pastelkami spoj údaje, které k sobě patří.

Přemysl Otakar I.	poslední Přemyslovec
Přemysl Otakar II.	pokračuje v osídlování pohraničí
Václav I.	král železný a zlatý
Václav II.	získal dědičný královský titul
Václav III.	nechal razit pražský groš

V tajence ti vyjde jméno obce, ve které Václav II. založil klášter:

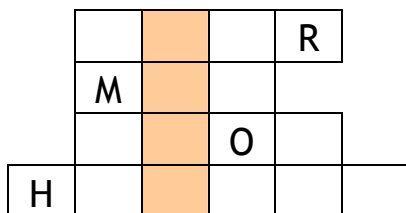
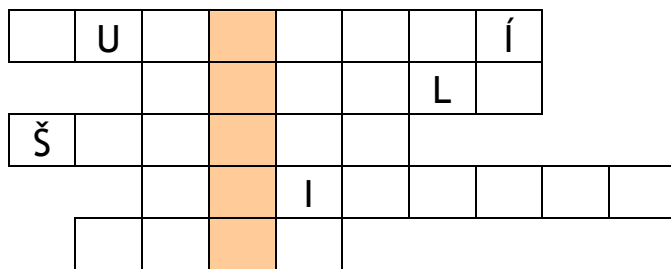


1. sídlo nižší šlechty
2. rodový znak
3. druhé jméno krále železného a zlatého
4. zakladatelka kláštera a nemocnice Na Františku
5. autor Kroniky české
6. syn Přemysla Otakara I.
7. město proslulé těžbou stříbra
8. oblíbená zábava králů

Spoj barevnými pastelkami řemeslníka s patřičnou činností.

kameník	vyráběl zbraně
kovář	vyráběl brnění
mečíř	zpracovával surové kůže
mlynář	zhotovoval nářadí, koval koně a vozy
helmíř	opracovával kámen na klenby a pilíře
koželuh	mlel obilí, stavěl vodní kola a náhony

Kolem roku 1300 byl nejbohatší stříbrný důl v Evropě u města:



1. správce hradu
2. jméno Habsburka, který porazil Přemysla Otakara II.
3. nemocnice a útulek pro chudé
4. velké ozdobné písmeno
5. panovnická hodnost
6. neobdělaná část pole
7. smrtelné středověké onemocnění
8. mince Václava II.
9. kamenné ohrazení města

Vypiš a nakresli si typické znaky staveb v gotickém slohu.